

Door de tijd heen

Gebruik bron 8.

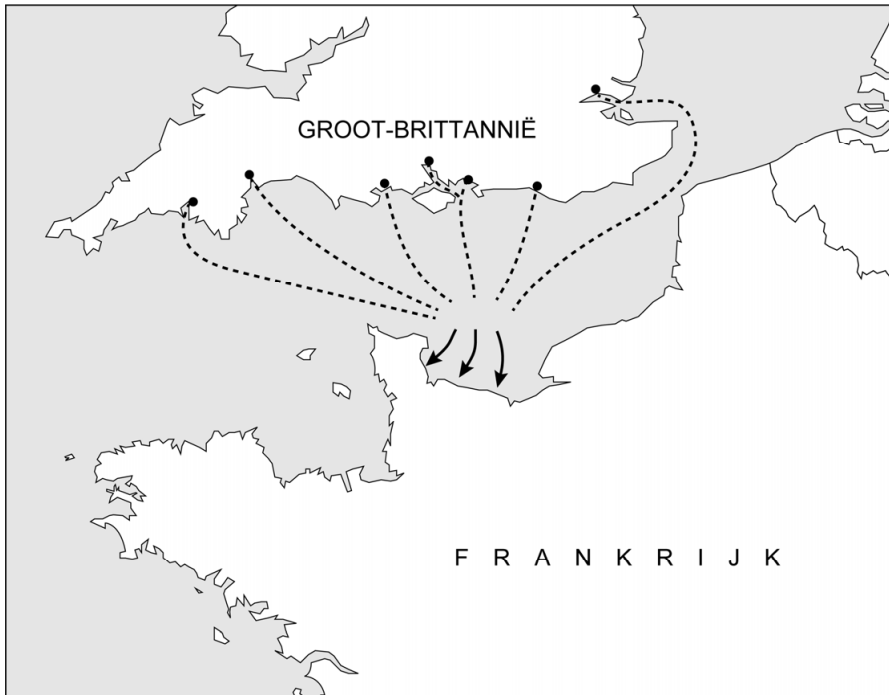
- 1p 11 Welke kaart hoort bij de Eerste Wereldoorlog?
- A kaart 1
 - B kaart 2
 - C kaart 3
 - D kaart 4

bron 8

Hieronder en op de volgende pagina staan in totaal vier kaarten:

kaart 1

Vaarroutes van soldaten naar een landingsgebied in Frankrijk:



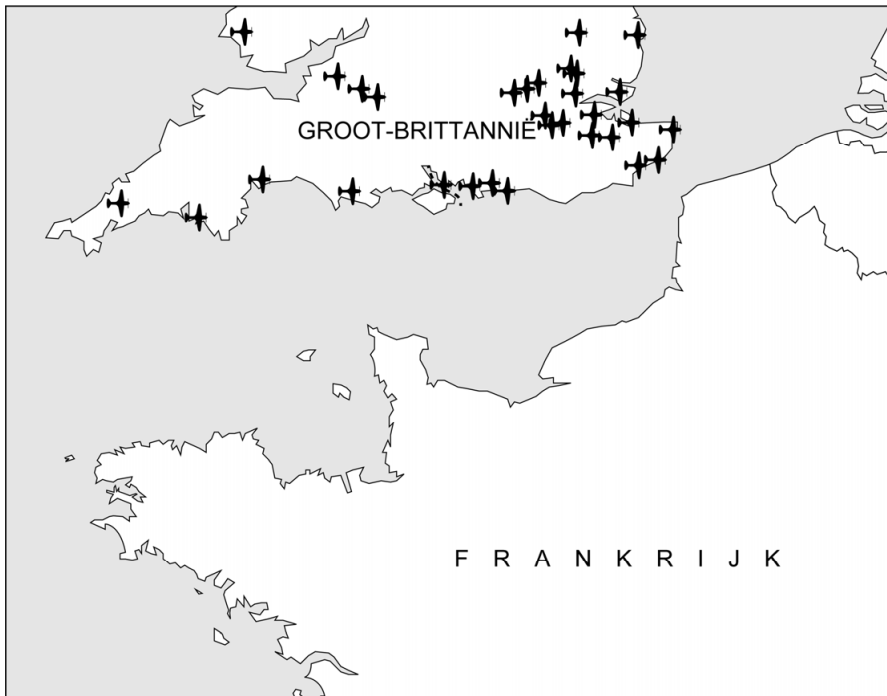
kaart 2

Schepen van het neutrale Nederland, gezonken door aanvallen van Duitse duikboten:



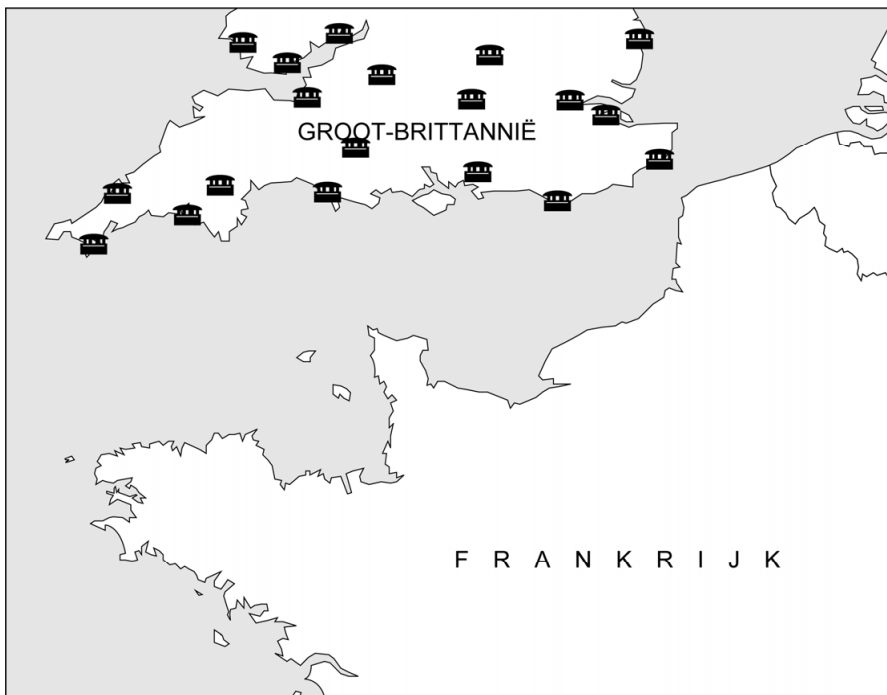
kaart 3

Vliegvelden gebruikt tijdens de Slag om Engeland:



kaart 4

Britse bunkers gebouwd om bescherming te bieden tegen een atoombom:



Bronvermelding

Een opsomming van de in dit examen gebruikte bronnen, zoals teksten en afbeeldingen, is te vinden in het bij dit examen behorende correctievoorschrift.